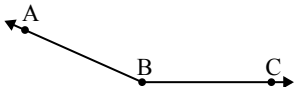




Chọn một đáp án.

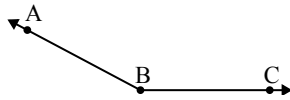
1)



Đáp án nào là phù hợp nhất với $\angle ABC$?

- A. 101°
- B. 130°
- C. 60°
- D. 156°

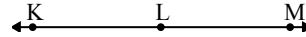
2)



Đáp án nào là phù hợp nhất với $\angle ABC$?

- A. 105°
- B. 31°
- C. 67°
- D. 152°

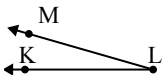
3)



Đáp án nào là phù hợp nhất với $\angle KLM$?

- A. 98°
- B. 180°
- C. 137°
- D. 8°

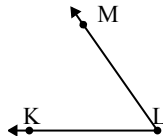
4)



Đáp án nào là phù hợp nhất với $\angle KLM$?

- A. 16°
- B. 128°
- C. 175°
- D. 49°

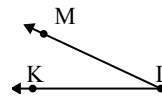
5)



Đáp án nào là phù hợp nhất với $\angle KLM$?

- A. 78°
- B. 55°
- C. 142°
- D. 29°

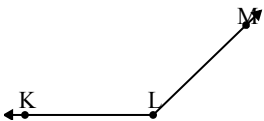
6)



Đáp án nào là phù hợp nhất với $\angle KLM$?

- A. 130°
- B. 88°
- C. 164°
- D. 25°

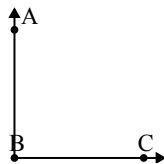
7)



Đáp án nào là phù hợp nhất với $\angle KLM$?

- A. 136°
- B. 12°
- C. 86°
- D. 158°

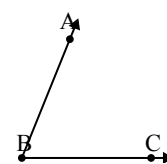
8)



Đáp án nào là phù hợp nhất với $\angle ABC$?

- A. 128°
- B. 60°
- C. 90°
- D. 150°

9)



Đáp án nào là phù hợp nhất với $\angle ABC$?

- A. 68°
- B. 129°
- C. 168°
- D. 107°

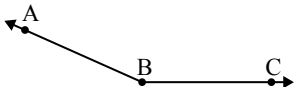
Câu trả lời

1. _____
2. _____
3. _____
4. _____
5. _____
6. _____
7. _____
8. _____
9. _____



Chọn một đáp án.

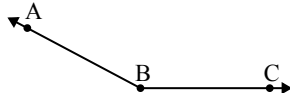
1)



Đáp án nào là phù hợp nhất với $\angle ABC$?

- A. 101°
- B. 130°
- C. 60°
- D. 156°

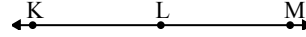
2)



Đáp án nào là phù hợp nhất với $\angle ABC$?

- A. 105°
- B. 31°
- C. 67°
- D. 152°

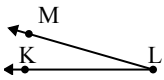
3)



Đáp án nào là phù hợp nhất với $\angle KLM$?

- A. 98°
- B. 180°
- C. 137°
- D. 8°

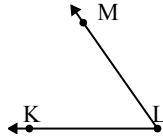
4)



Đáp án nào là phù hợp nhất với $\angle KLM$?

- A. 16°
- B. 128°
- C. 175°
- D. 49°

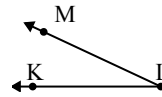
5)



Đáp án nào là phù hợp nhất với $\angle KLM$?

- A. 78°
- B. 55°
- C. 142°
- D. 29°

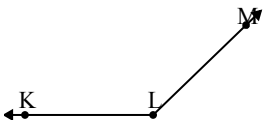
6)



Đáp án nào là phù hợp nhất với $\angle KLM$?

- A. 130°
- B. 88°
- C. 164°
- D. 25°

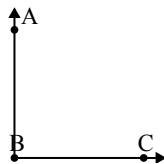
7)



Đáp án nào là phù hợp nhất với $\angle KLM$?

- A. 136°
- B. 12°
- C. 86°
- D. 158°

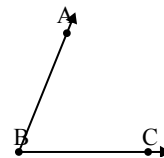
8)



Đáp án nào là phù hợp nhất với $\angle ABC$?

- A. 128°
- B. 60°
- C. 90°
- D. 150°

9)



Đáp án nào là phù hợp nhất với $\angle ABC$?

- A. 68°
- B. 129°
- C. 168°
- D. 107°

Câu trả lời

1. **D**
2. **D**
3. **B**
4. **A**
5. **B**
6. **D**
7. **A**
8. **C**
9. **A**