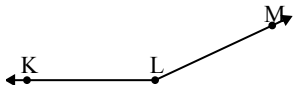




Chọn một đáp án.

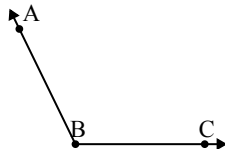
1)



Đáp án nào là phù hợp nhất với $\angle KLM$?

- A. 11°
- B. 155°
- C. 44°
- D. 78°

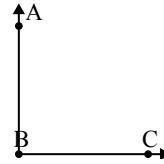
2)



Đáp án nào là phù hợp nhất với $\angle ABC$?

- A. 40°
- B. 116°
- C. 67°
- D. 16°

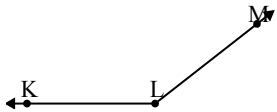
3)



Đáp án nào là phù hợp nhất với $\angle ABC$?

- A. 116°
- B. 41°
- C. 170°
- D. 90°

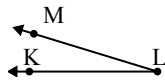
4)



Đáp án nào là phù hợp nhất với $\angle KLM$?

- A. 37°
- B. 97°
- C. 16°
- D. 142°

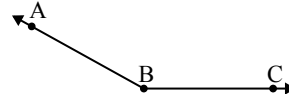
5)



Đáp án nào là phù hợp nhất với $\angle KLM$?

- A. 152°
- B. 61°
- C. 17°
- D. 104°

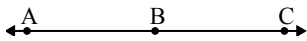
6)



Đáp án nào là phù hợp nhất với $\angle ABC$?

- A. 90°
- B. 151°
- C. 33°
- D. 174°

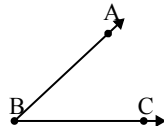
7)



Đáp án nào là phù hợp nhất với $\angle ABC$?

- A. 151°
- B. 53°
- C. 17°
- D. 180°

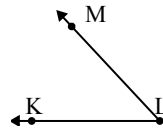
8)



Đáp án nào là phù hợp nhất với $\angle ABC$?

- A. 10°
- B. 154°
- C. 79°
- D. 43°

9)



Đáp án nào là phù hợp nhất với $\angle KLM$?

- A. 24°
- B. 137°
- C. 102°
- D. 47°

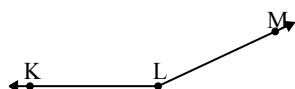
Câu trả lời

1. _____
2. _____
3. _____
4. _____
5. _____
6. _____
7. _____
8. _____
9. _____



Chọn một đáp án.

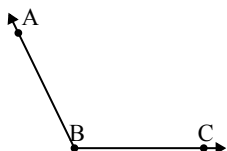
1)



Đáp án nào là phù hợp nhất với $\angle KLM$?

- A. 11°
- B. 155°
- C. 44°
- D. 78°

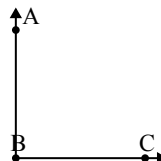
2)



Đáp án nào là phù hợp nhất với $\angle ABC$?

- A. 40°
- B. 116°
- C. 67°
- D. 16°

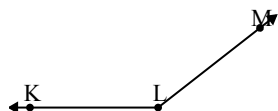
3)



Đáp án nào là phù hợp nhất với $\angle ABC$?

- A. 116°
- B. 41°
- C. 170°
- D. 90°

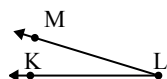
4)



Đáp án nào là phù hợp nhất với $\angle KLM$?

- A. 37°
- B. 97°
- C. 16°
- D. 142°

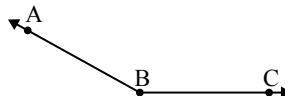
5)



Đáp án nào là phù hợp nhất với $\angle KLM$?

- A. 152°
- B. 61°
- C. 17°
- D. 104°

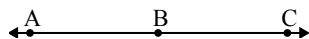
6)



Đáp án nào là phù hợp nhất với $\angle ABC$?

- A. 90°
- B. 151°
- C. 33°
- D. 174°

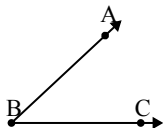
7)



Đáp án nào là phù hợp nhất với $\angle ABC$?

- A. 151°
- B. 53°
- C. 17°
- D. 180°

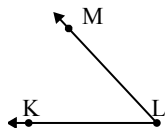
8)



Đáp án nào là phù hợp nhất với $\angle ABC$?

- A. 10°
- B. 154°
- C. 79°
- D. 43°

9)



Đáp án nào là phù hợp nhất với $\angle KLM$?

- A. 24°
- B. 137°
- C. 102°
- D. 47°

Câu trả lời

1. **B**
2. **B**
3. **D**
4. **D**
5. **C**
6. **B**
7. **D**
8. **D**
9. **D**