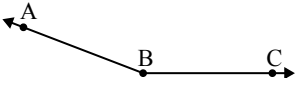




Chọn một đáp án.

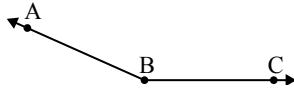
1)



Đáp án nào là phù hợp nhất với $\angle ABC$?

- A. 46°
- B. 96°
- C. 159°
- D. 126°

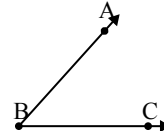
2)



Đáp án nào là phù hợp nhất với $\angle ABC$?

- A. 41°
- B. 104°
- C. 156°
- D. 67°

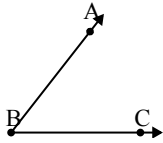
3)



Đáp án nào là phù hợp nhất với $\angle ABC$?

- A. 0°
- B. 125°
- C. 48°
- D. 73°

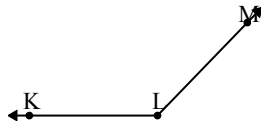
4)



Đáp án nào là phù hợp nhất với $\angle ABC$?

- A. 95°
- B. 146°
- C. 52°
- D. 171°

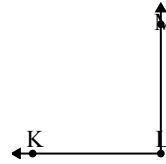
5)



Đáp án nào là phù hợp nhất với $\angle KLM$?

- A. 109°
- B. 134°
- C. 40°
- D. 166°

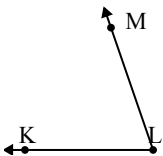
6)



Đáp án nào là phù hợp nhất với $\angle KLM$?

- A. 179°
- B. 135°
- C. 52°
- D. 90°

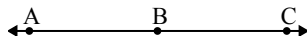
7)



Đáp án nào là phù hợp nhất với $\angle KLM$?

- A. 71°
- B. 150°
- C. 35°
- D. 125°

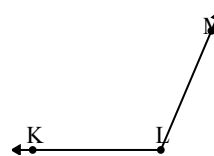
8)



Đáp án nào là phù hợp nhất với $\angle ABC$?

- A. 34°
- B. 180°
- C. 8°
- D. 95°

9)



Đáp án nào là phù hợp nhất với $\angle KLM$?

- A. 25°
- B. 176°
- C. 46°
- D. 113°

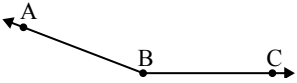
Câu trả lời

1. _____
2. _____
3. _____
4. _____
5. _____
6. _____
7. _____
8. _____
9. _____



Chọn một đáp án.

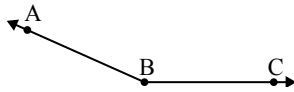
1)



Đáp án nào là phù hợp nhất với $\angle ABC$?

- A. 46°
- B. 96°
- C. 159°
- D. 126°

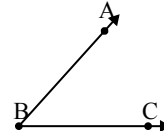
2)



Đáp án nào là phù hợp nhất với $\angle ABC$?

- A. 41°
- B. 104°
- C. 156°
- D. 67°

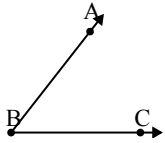
3)



Đáp án nào là phù hợp nhất với $\angle ABC$?

- A. 0°
- B. 125°
- C. 48°
- D. 73°

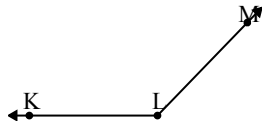
4)



Đáp án nào là phù hợp nhất với $\angle ABC$?

- A. 95°
- B. 146°
- C. 52°
- D. 171°

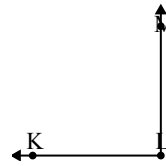
5)



Đáp án nào là phù hợp nhất với $\angle KLM$?

- A. 109°
- B. 134°
- C. 40°
- D. 166°

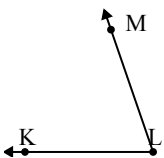
6)



Đáp án nào là phù hợp nhất với $\angle KLM$?

- A. 179°
- B. 135°
- C. 52°
- D. 90°

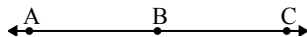
7)



Đáp án nào là phù hợp nhất với $\angle KLM$?

- A. 71°
- B. 150°
- C. 35°
- D. 125°

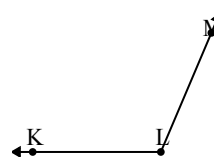
8)



Đáp án nào là phù hợp nhất với $\angle ABC$?

- A. 34°
- B. 180°
- C. 8°
- D. 95°

9)



Đáp án nào là phù hợp nhất với $\angle KLM$?

- A. 25°
- B. 176°
- C. 46°
- D. 113°

Câu trả lời

1. **C**
2. **C**
3. **C**
4. **C**
5. **B**
6. **D**
7. **A**
8. **B**
9. **D**