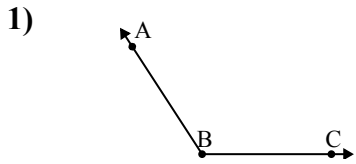


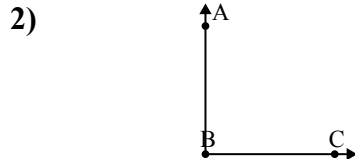


Chọn một đáp án.



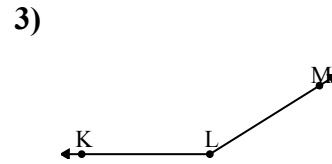
Đáp án nào là phù hợp nhất với $\angle ABC$?

- A. 123°
- B. 102°
- C. 179°
- D. 24°



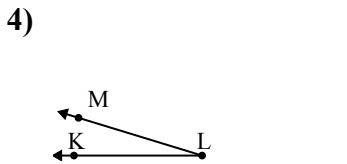
Đáp án nào là phù hợp nhất với $\angle ABC$?

- A. 90°
- B. 55°
- C. 172°
- D. 21°



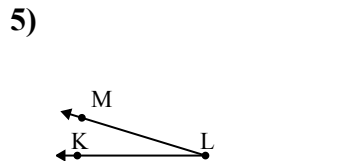
Đáp án nào là phù hợp nhất với $\angle KLM$?

- A. 92°
- B. 48°
- C. 7°
- D. 148°



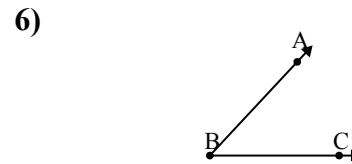
Đáp án nào là phù hợp nhất với $\angle KLM$?

- A. 47°
- B. 98°
- C. 17°
- D. 134°



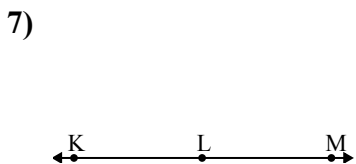
Đáp án nào là phù hợp nhất với $\angle KLM$?

- A. 137°
- B. 84°
- C. 62°
- D. 17°



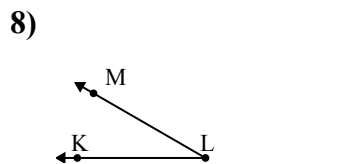
Đáp án nào là phù hợp nhất với $\angle ABC$?

- A. 149°
- B. 177°
- C. 85°
- D. 47°



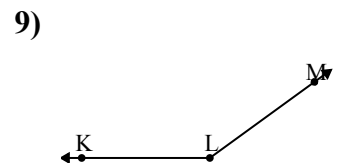
Đáp án nào là phù hợp nhất với $\angle KLM$?

- A. 180°
- B. 76°
- C. 36°
- D. 123°



Đáp án nào là phù hợp nhất với $\angle KLM$?

- A. 66°
- B. 30°
- C. 133°
- D. 98°



Đáp án nào là phù hợp nhất với $\angle KLM$?

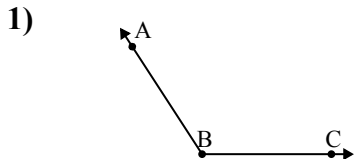
- A. 93°
- B. 50°
- C. 7°
- D. 144°

Câu trả lời

1. _____
2. _____
3. _____
4. _____
5. _____
6. _____
7. _____
8. _____
9. _____

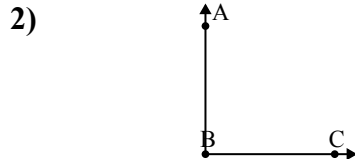


Chọn một đáp án.



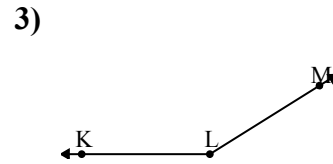
Đáp án nào là phù hợp nhất với $\angle ABC$?

- A. 123°
- B. 102°
- C. 179°
- D. 24°



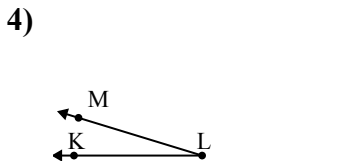
Đáp án nào là phù hợp nhất với $\angle ABC$?

- A. 90°
- B. 55°
- C. 172°
- D. 21°



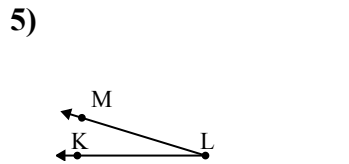
Đáp án nào là phù hợp nhất với $\angle KLM$?

- A. 92°
- B. 48°
- C. 7°
- D. 148°



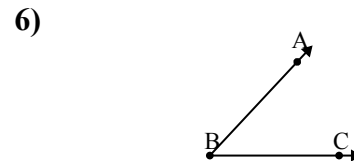
Đáp án nào là phù hợp nhất với $\angle KLM$?

- A. 47°
- B. 98°
- C. 17°
- D. 134°



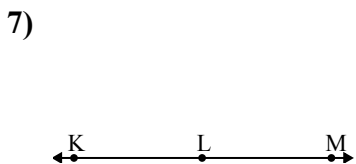
Đáp án nào là phù hợp nhất với $\angle KLM$?

- A. 137°
- B. 84°
- C. 62°
- D. 17°



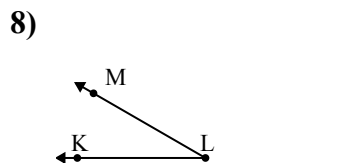
Đáp án nào là phù hợp nhất với $\angle ABC$?

- A. 149°
- B. 177°
- C. 85°
- D. 47°



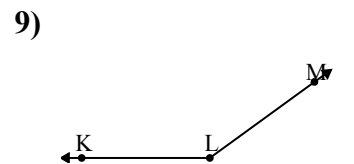
Đáp án nào là phù hợp nhất với $\angle KLM$?

- A. 180°
- B. 76°
- C. 36°
- D. 123°



Đáp án nào là phù hợp nhất với $\angle KLM$?

- A. 66°
- B. 30°
- C. 133°
- D. 98°



Đáp án nào là phù hợp nhất với $\angle KLM$?

- A. 93°
- B. 50°
- C. 7°
- D. 144°

Câu trả lời

1. **A**
2. **A**
3. **D**
4. **C**
5. **D**
6. **D**
7. **A**
8. **B**
9. **D**