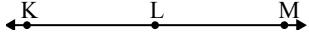




Chọn một đáp án.

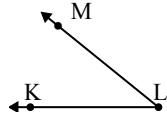
1)



Đáp án nào là phù hợp nhất với $\angle KLM$?

- A. 7°
- B. 152°
- C. 79°
- D. 180°

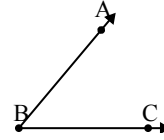
2)



Đáp án nào là phù hợp nhất với $\angle KLM$?

- A. 80°
- B. 6°
- C. 133°
- D. 39°

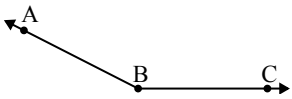
3)



Đáp án nào là phù hợp nhất với $\angle ABC$?

- A. 146°
- B. 9°
- C. 121°
- D. 50°

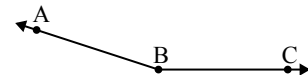
4)



Đáp án nào là phù hợp nhất với $\angle ABC$?

- A. 4°
- B. 153°
- C. 109°
- D. 78°

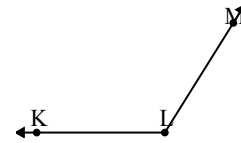
5)



Đáp án nào là phù hợp nhất với $\angle ABC$?

- A. 73°
- B. 107°
- C. 162°
- D. 2°

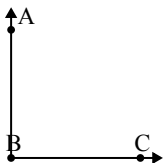
6)



Đáp án nào là phù hợp nhất với $\angle KLM$?

- A. 27°
- B. 122°
- C. 163°
- D. 6°

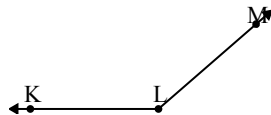
7)



Đáp án nào là phù hợp nhất với $\angle ABC$?

- A. 128°
- B. 37°
- C. 179°
- D. 90°

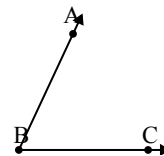
8)



Đáp án nào là phù hợp nhất với $\angle KLM$?

- A. 173°
- B. 0°
- C. 139°
- D. 34°

9)



Đáp án nào là phù hợp nhất với $\angle ABC$?

- A. 100°
- B. 126°
- C. 172°
- D. 65°

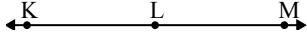
Câu trả lời

1. _____
2. _____
3. _____
4. _____
5. _____
6. _____
7. _____
8. _____
9. _____



Chọn một đáp án.

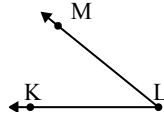
1)



Đáp án nào là phù hợp nhất với $\angle KLM$?

- A. 7°
- B. 152°
- C. 79°
- D. 180°

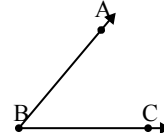
2)



Đáp án nào là phù hợp nhất với $\angle KLM$?

- A. 80°
- B. 6°
- C. 133°
- D. 39°

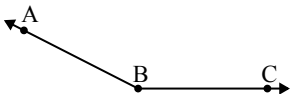
3)



Đáp án nào là phù hợp nhất với $\angle ABC$?

- A. 146°
- B. 9°
- C. 121°
- D. 50°

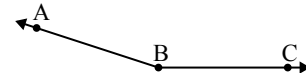
4)



Đáp án nào là phù hợp nhất với $\angle ABC$?

- A. 4°
- B. 153°
- C. 109°
- D. 78°

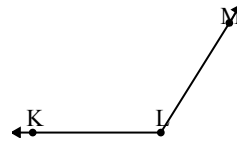
5)



Đáp án nào là phù hợp nhất với $\angle ABC$?

- A. 73°
- B. 107°
- C. 162°
- D. 2°

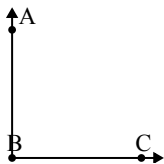
6)



Đáp án nào là phù hợp nhất với $\angle KLM$?

- A. 27°
- B. 122°
- C. 163°
- D. 6°

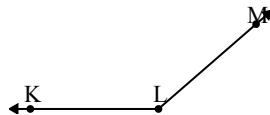
7)



Đáp án nào là phù hợp nhất với $\angle ABC$?

- A. 128°
- B. 37°
- C. 179°
- D. 90°

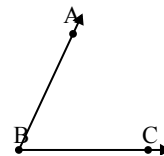
8)



Đáp án nào là phù hợp nhất với $\angle KLM$?

- A. 173°
- B. 0°
- C. 139°
- D. 34°

9)



Đáp án nào là phù hợp nhất với $\angle ABC$?

- A. 100°
- B. 126°
- C. 172°
- D. 65°

Câu trả lời

1. **D**
2. **D**
3. **D**
4. **B**
5. **C**
6. **B**
7. **D**
8. **C**
9. **D**