

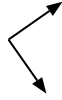


Xác định góc trong hình là 'nhỏ hơn', 'lớn hơn' hay 'bằng' góc 90° .

Vd)



1)



2)



Câu trả lời

Vd. **Nhỏ hơn**

1. _____

2. _____

3. _____

4. _____

5. _____

6. _____

7. _____

8. _____

9. _____

10. _____

11. _____

12. _____

13. _____

14. _____

15. _____

16. _____

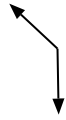
17. _____

18. _____

19. _____

20. _____

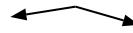
3)



4)



5)



6)



7)



8)



9)



10)



11)



12)



13)



14)



15)



16)



17)



18)



19)



20)





Xác định góc trong hình là 'nhỏ hơn', 'lớn hơn' hay 'bằng' góc 90° .

Vd)



1)



2)



Câu trả lời

Vd. **Nhỏ hơn**

3)



4)



5)



1. **Bằng**

2. **Bằng**

3. **Lớn hơn**

4. **Bằng**

5. **Lớn hơn**

6)



7)



8)



6. **Nhỏ hơn**

7. **Bằng**

8. **Lớn hơn**

9)



10)



11)



9. **Bằng**

10. **Lớn hơn**

11. **Lớn hơn**

12)



13)



14)



12. **Bằng**

13. **Nhỏ hơn**

14. **Bằng**

15)



16)



17)



15. **Lớn hơn**

16. **Nhỏ hơn**

17. **Bằng**

18)



19)



20)



18. **Nhỏ hơn**

19. **Nhỏ hơn**

20. **Nhỏ hơn**