



Xác định góc trong hình là 'nhỏ hơn', 'lớn hơn' hay 'bằng' góc  $90^\circ$ .

Vd)



1)



2)



**Câu trả lời**

Vd. Bằng

1. \_\_\_\_\_

2. \_\_\_\_\_

3. \_\_\_\_\_

4. \_\_\_\_\_

5. \_\_\_\_\_

6. \_\_\_\_\_

7. \_\_\_\_\_

8. \_\_\_\_\_

9. \_\_\_\_\_

10. \_\_\_\_\_

11. \_\_\_\_\_

12. \_\_\_\_\_

13. \_\_\_\_\_

14. \_\_\_\_\_

15. \_\_\_\_\_

16. \_\_\_\_\_

17. \_\_\_\_\_

18. \_\_\_\_\_

19. \_\_\_\_\_

20. \_\_\_\_\_

3)



4)



5)



6)



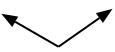
7)



8)



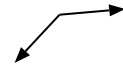
9)



10)



11)



12)



13)



14)



15)



16)



17)



18)



19)



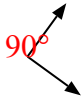
20)





Xác định góc trong hình là 'nhỏ hơn', 'lớn hơn' hay 'bằng' góc  $90^\circ$ .

Vd)



1)



2)



**Câu trả lời**

Vd. Bằng

3)



4)



5)



1. Bằng

2. Nhỏ hơn

3. Bằng

4. Nhỏ hơn

5. Bằng

6. Bằng

7. Nhỏ hơn

8. Nhỏ hơn

9. Lớn hơn

10. Lớn hơn

11. Lớn hơn

12. Lớn hơn

13. Nhỏ hơn

14. Nhỏ hơn

15. Nhỏ hơn

16. Bằng

17. Bằng

18. Lớn hơn

19. Lớn hơn

20. Lớn hơn

6)



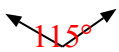
7)



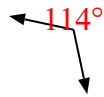
8)



9)



10)



11)



12)



13)



14)



15)



16)



17)



18)



19)



20)

